



Escola Municipal de Educação Básica Alfredo Gomes  
Rua Coronel Rupp nº 1866 – Telefone: (49) 3525-6555  
Catanduvas – SC, 2020.

Professora: **Juanice Moreira Pecher**

Aluna(o): .....

5º ano matutino

**Atividades de 28 de setembro a 02 de outubro**



Olá, aluno e aluna

## TRILHA DE CONHECIMENTOS ▶▶▶

Você gosta de assistir televisão? Provavelmente sim. Essa atividade vai levar você a refletir sobre esse meio de comunicação. A partir do texto que você lerá e das questões propostas, você poderá refletir se a televisão é tão atraente quanto parece.

1. Leia atentamente o texto e responda às questões a seguir.

### Televisão

Televisão é uma caixa de imagens que fazem barulho.

Quando os adultos não querem ser incomodados, mandam as crianças ir assistir televisão.

O que eu gosto mais na televisão são os desenhos animados de bichos.

Bicho imitando gente é muito mais engraçado do que gente imitando gente, como nas telenovelas.

Não gosto muito de programas infantis com gente fingindo ser criança.

Em vez de ficar olhando essa gente brincar de mentira, prefiro ir brincar de verdade com meus amigos e amigas.

Também os doces que aparecem anunciados na televisão não têm gosto de coisa alguma porque ninguém pode comer uma imagem.

Já os doces que minha mãe faz e que eu como todo dia, esses sim, são gostosos.

Conclusão: a vida fora da televisão é melhor do que dentro dela.



Fonte: PAES, J. P. Televisão. In: Vejam como eu sei escrever. 1. ed. São Paulo, Ática, 2001. p. 26-27.

a) Sobre qual meio de comunicação o texto fala?

b) Explique, com suas palavras e de acordo com o que você entendeu do texto, a conclusão do autor: “a vida fora da televisão é melhor do que dentro dela”.

c) Explique, com suas palavras, por que os doces que aparecem na TV não têm gosto?

d) Na frase “Já os doces que minha mãe faz e que eu como todo dia, esses sim, são gostosos” a palavra destacada (esses) se refere a:

( ) Mãe      ( ) Dia      ( ) Doces      ( ) Gostosos



e) Há um trecho em que percebemos que o narrador é uma criança. Assinale a alternativa que comprova isso.

- ( ) “Bicho imitando gente é muito mais engraçado do que gente imitando gente, como nas telenovelas.”
- ( ) “Em vez de ficar olhando essa gente brincar de mentira, prefiro ir brincar de verdade...”
- ( ) “Quando os adultos não querem ser incomodados, mandam as crianças ir assistir à televisão.”
- ( ) “Também os doces que aparecem anunciados na televisão não têm gosto de coisa alguma...”

Fonte/Adaptação: SÃO PAULO, 2013. Secretaria Municipal de Educação. Interfaces Curriculares. Áreas do Conhecimento e Avaliação para Aprendizagem. p.130. (Adaptação)

## MATEMÁTICA

-Observe as quantias, em dinheiro, de Marcos e Fábio.

c) Qual a diferença de valores entre os dois?

a) Marcos: R\$ \_\_\_\_\_

Solução:

Cálculo:



C	D	U

d) A metade da quantia de Marcos é R\$ \_\_\_\_\_

C	D	U	C	D	U

b) Fábio: R\$ \_\_\_\_\_



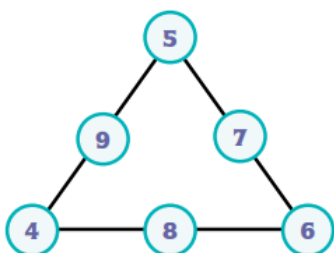
e) Um terço da quantia de Fábio é R\$ \_\_\_\_\_

C	D	U	C	D	U

f) O valor da quantia que os dois possuem juntos é R\$ \_\_\_\_\_

## O TRIÂNGULO MÁGICO

A soma de cada lado do triângulo abaixo é a mesma!!!

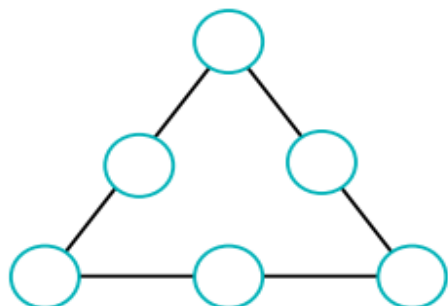


Porque:  $4 + 9 + 5 = \underline{\quad}$ ,  $5 + 7 + 6 = \underline{\quad}$  e  $4 + 8 + 6 = \underline{\quad}$

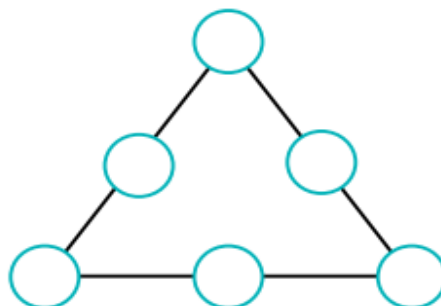
É por isso que este triângulo é chamado de triângulo mágico, pois a soma em cada lado é a mesma!!!

## VAMOS PRATICAR!

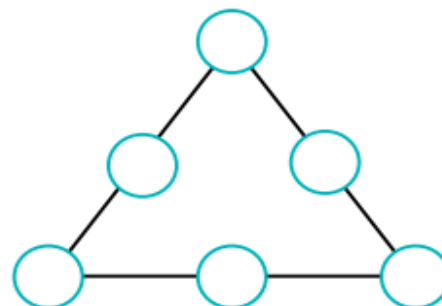
1. Utilize os números 4, 5, 6, 7, 8 e 9 nos triângulos abaixo, de tal modo que a soma em cada lado do triângulo seja 19, 20 e 21.



Soma 19



Soma 20



Soma 21

- O desafio nesta atividade é...

Acrescentar o algarismo 5 para se obter o maior número possível com 4 dígitos.

Você deve pensar bem qual é o melhor lugar para posicionar este algarismo nos seguintes números:

a) 327

b) 549

c) 985

d) 783

e) 607

- Em uma cidade da Alemanha, um funcionário precisava analisar o movimento de pessoas que circulavam na estação, durante um dia útil da semana. No início do mês de abril, ele anotou os números registrados pelas catracas de entrada e saída na tabela abaixo:

Horário	Nº de pessoas que embarcaram	Nº de pessoas que desembarcaram
6 às 9h	3787	4212
9 às 12h	854	893
12 às 15h	3473	2871
15 às 18h	928	798
18 às 21h	4639	3365

- a) Qual é o total de pessoas que embarcaram nessa estação?

---

- b) Qual é o total de pessoas que desembarcaram nessa estação?

---

- Digite 436 na calculadora. Com uma única operação, e sem apagar, como você pode obter:

a) 406?

b) 36?

c) 430?

d) 546?

## CIÊNCIAS

Quando você faz algum exercício, como o seu corpo reage? Ele sofre alguma alteração? Vamos conversar mais sobre isso!

1. Observe as imagens:



Alguns sinais do corpo chamados vitais: pulsação, temperatura, respiração e pressão arterial indicam alterações no funcionamento de nosso organismo.

2. Você DEVERÁ PRATICAR as seguintes ações: correr, pular, dançar. Antes de começar as ações, leia atentamente o quadro abaixo, pois você deverá sentir como seu corpo vai reagir durante as ações. Depois que você fizer as ações, por aproximadamente 5 minutos, descanse por 10 minutos e comece a preencher o quadro.

Sinais vitais		Respiração	Pulsação	Temperatura
<b>Depois de ter feito movimento, como sente o sinal vital?</b>	Tranquila		/	/
	Moderada			/
	Acelerada			/
	Alta			
	Baixa			
<b>Em descanso, como sente o sinal vital?</b>	Tranquila		/	/
	Moderada			
	Acelerada			/
	Alta			
	Baixa			
<b>Parte do corpo de referência para a observação dos sinais vitais</b>				

Faça uma pesquisa e escreva sobre a importância do exercício físico para a saúde física e mental. Escreva no caderno de Ciências.