

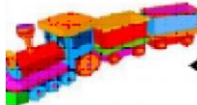







Escola Municipal de Educação Básica Alfredo Gomes.
Catanduvas _ Santa Catarina
Diretora: Ivânia Ap. Nora
Assessora Técnica Pedagógica: Simone Andréa Carl
Assessora Técnica Administrativa: Tania Nunes de Ávila
Professora: Vânia Miotto.
Turma: 3º ano vespertino


□ Resolver operações e situações problema que envolvem a adição.

Os preços subiram!

Uma loja aumentou em **10 REAIS** o preço de alguns brinquedos. Veja o preço antigo e escreva o novo preço nas etiquetas:

	Preço antigo 20 REAIS	Preço novo <input type="text"/>		Preço antigo 18 REAIS	Preço novo <input type="text"/>
	Preço antigo 40 REAIS	Preço novo <input type="text"/>		Preço antigo 22 REAIS	Preço novo <input type="text"/>
	Preço antigo 65 REAIS	Preço novo <input type="text"/>		Preço antigo 100 REAIS	Preço novo <input type="text"/>

Utilize as cédulas de Real para contar.











Que bagunça!

Os monstrinhos estão loucos, pois perderam os resultados das operações. Resolva as contas e ajude-os a encontrar cada resultado:

140

180

515

							
$\begin{array}{r} 587 \\ - 72 \\ \hline \end{array}$	$\begin{array}{r} 380 \\ - 141 \\ \hline \end{array}$	$\begin{array}{r} 205 \\ - 25 \\ \hline \end{array}$	$\begin{array}{r} 664 \\ - 593 \\ \hline \end{array}$	$\begin{array}{r} 400 \\ - 260 \\ \hline \end{array}$	$\begin{array}{r} 822 \\ - 599 \\ \hline \end{array}$		

239

71

223

