



E M E Básica Alfredo Gomes.
 Catanduvas _ Santa Catarina
 Diretora: Ivania Ap. Nora
 Assessora Téc. Ped: Simone A. Carl

Ass. Téc. Adm.: Tania N. de Ávila


Professora: Vânia Miotto.

Turma: 3º ano vespertino

Aluno(a):.....

Questão 01=====

(SAEPE-PE). Observe abaixo a quantidade de pontos que cada criança marcou em uma brincadeira.

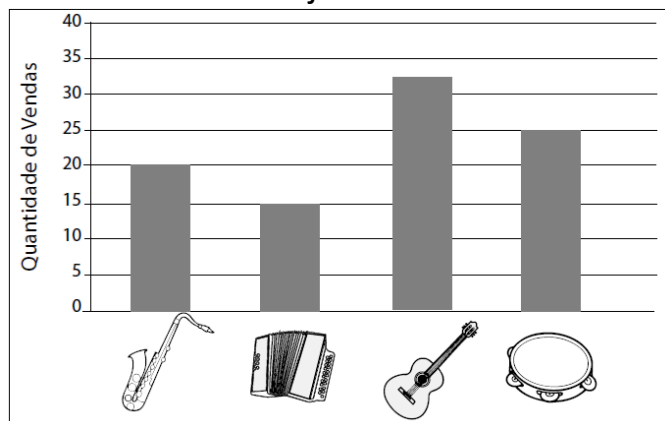


Quem marcou mais pontos?





- A) Artur. C) Jonas.
 B) Igor. D) Renata.

Questão 02=====

(SAETHE). Observe no gráfico abaixo a quantidade de instrumentos musicais vendidos em uma loja durante um mês.



De acordo com esse gráfico, qual foi o instrumento mais vendido nessa loja nesse mês?

- A)** 
B) 
C) 
D) 

Questão 03=====

(SAETHE). Observe a conta abaixo.

$$160 + 39$$

Qual é o resultado dessa conta?

- A) 137
 B) 165
 C) 180
 D) 199

Questão 04=====

(SAETHE). Observe abaixo as 10 casas de uma rua.



Em cada uma dessas casas, moram 4 pessoas.

Quantas pessoas, ao todo, moram nessa rua?

- A) 40
 B) 44
 C) 14
 D) 10

Questão 05=====

(SAETHE). Maria distribuiu igualmente 75 livros para cada um de seus 25 alunos.

Quantos livros, no total, cada aluno recebeu?





- A) 2
 B) 3
 C) 31
 D) 50

Questão 06=====

(SAEMI). Observe abaixo a posição de algumas pessoas em uma fila.







Qual dessas pessoas está em 1º lugar?

- A) 
- B) 
- C) 
- D) 

Questão 07=====

(SAEMI). Qual dos desenhos abaixo lembra a forma de um paralelepípedo?

- A) 
- B) 
- C) 
- D) 

Questão 08=====

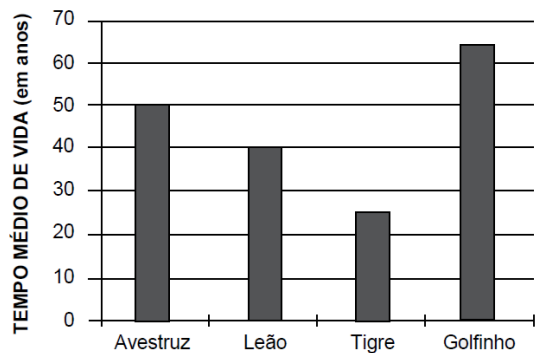
(SAEMI). No quintal da casa de Carolina, existem 4 canteiros de flores e, em cada um desses canteiros, há 12 rosas.

Quantas rosas no total há no quintal de Carolina?

- A) 15
- B) 16
- C) 46
- D) 48

Questão 09=====

(SAEMI). O gráfico abaixo apresenta o tempo médio de vida de alguns animais.



De acordo com esse gráfico, qual desses animais tem o menor tempo de vida?

- A) Avestruz.
- B) Golfinho.
- C) Leão.
- D) Tigre.

Questão 10=====

(SARAIVA). FAÇA UM X NO QUADRADINHO QUE MOSTRA UM NÚMERO QUE APARECE NA CARTELA DO BINGO.

B I N G O				
15	16	31	58	61
2	18	44	60	65
7	29	38	53	75
10	30	45	46	74
3	22	33	59	70

- A) DEZESETE
- B) VINTE E NOVE
- C) ONZE
- D) TRINTA E SETE

Questão 11=====

(SARAIVA). Leia o texto a seguir:



Sandra tem um aquário com 7 peixes. O pai de Sandra trouxe mais 5 peixes.

Faça um X no quadradinho que mostra com quantos peixes Sandra ficou.

- A) 2
- B) 12
- C) 10
- D) 13

Questão 12=====

(SARAIVA). LIA E ARTUR COLECIONAM SELOS. LIA TEM 32 SELOS E ARTUR TEM 28.



FAÇA UM X NO QUADRINHO QUE MOSTRA QUANTOS SELOS LIA TEM A MAIS QUE ARTUR.

- A) 4
- B) 14
- C) 60
- D) 18

Questão 13=====

(SARAIVA). ANDRÉ COMEÇOU UM JOGO COM 20 FIGURINHAS, MAS, DEPOIS DE ALGUMAS RODADAS, PERDEU 6 FIGURINHAS.



FAÇA UM X NO QUADRINHO QUE MOSTRA O TOTAL DE FIGURINHAS COM QUE ANDRÉ FICOU.

- A) 26
- B) 4
- C) 14
- D) 16

Questão 14=====

(Moderna). A professora Clara realizou uma pesquisa para saber quais são os lanches que seus alunos preferem consumir durante o recreio. Na tabela está o resultado da pesquisa, com o tipo de lanche e a quantidade de alunos que o preferem.

Lanches preferidos pelos alunos da professora Clara

Lanches	Quantidade de alunos
Bolo	46
Fruta	32
Bolacha	36
Pão com recheio	23

Entre os lanches citados pelos alunos da professora Clara, qual é o tipo de lanche preferido dessa turma?

- A) PÃO COM RECHEIO
- B) FRUTA
- C) BOLACHA
- D) BOLO