



Escola Municipal de Educação Básica Alfredo Gomes.
Catanduvas, DEZEMBRO de 2020.

Diretora: Ivania Ap. Nora

Assessora Técnica Pedagógica: Simone Andréa Carl

Assessora Técnica Administrativa: Tania Nunes de Ávila

Professora: **TASSIANA CLAUDIA FELIPE**

4º ano Vespertino

SEQUÊNCIA DIDÁTICA DO 4º ANO VESPERTINO
PRIMEIRA SEMANA 07/12 a 11/12/20

TITULO: ENFIM, CHEGOU O NATAL!

Feliz Natal *Olá Meus Queridos Alunos e Alunas!*

O Tempo passou, o Natal chegou, a Saudade aumentou, a distância nos separou e para a ESCOLA ninguém voltou! Saudades, tristeza, esperança, medo, incerteza....

Foram as palavras que conviveram com nós neste ano.

Mas tenham a certeza que sempre estiveram no meu coração e nos meus pensamentos.

Queria poder abraçá-los, ficarmos juntos, mas esse ano não foi possível.

Estamos finalizando as atividades desse ano letivo que ficará marcado em nossas vidas.

Mas precisamos agradecer ao nosso Senhor Jesus Cristo pela nossa vida, pela nossa família e por tudo o que ganhamos e aprendemos durante o ano..

Até a semana que vem quando finalizaremos nossas atividades.

Bom trabalho e um grande abraço.
Prof.Tassiana

ATIVIDADES DE MATEMÁTICA

Vimos que Felício encontrou uma linda maneira de presentear os amigos com presentes singelos e que aquecem o coração. Para isso teve que fazer muitas sacolinhas para colocar seus sentimentos dentro.

A primeira atividade que você irá fazer é registrar nos quadrinhos a quantidade de sacolinhas que Felício fez e distribuiu.

1- Conte e registre no quadradinho o número de sacolinhas que Felício fez:



2-Agora responda as questões abaixo:

a) Felício fez vários modelos de sacolinhas, conte todas elas para descobrir quantas fez?

R: _____

b) E se ele fizesse o dobro dessa quantidade quantas seriam?

R: _____

c) Quantas sacolinhas seriam se Felício fizesse o triplo da quantidade que você contou nos desenhos?

R: _____

3-Agora coloque o resultado no quadradinho das caixinhas que Felício fez para distribuir os presentes e depois some todos para saber quantas tem:





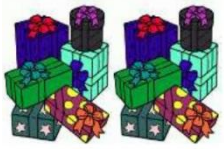





a) Quantas caixinhas tem ao todo?

.....+.....+.....+.....+.....+.....+.....+.....+.....+.....=.....

b) Multiplique o resultado por 5, e será igual a=.....

c) Multiplique o resultado por 8, e será igual a =.....

4-Agora vamos multiplicar as caixas de alegria que Felício fez:

 <p>X 5=</p>	 <p>X 6=.....</p>
 <p>X</p>  <p>X</p> <p>..... X=</p>	 <p>X</p>  <p>X</p> <p>..... X=.....</p>
 <p>X 8=</p>	 <p>X 9=.....</p>

5- Resolva as situações problemas:

a) Felício comprou 5 kits de gorros natalinos para comemorar o natal com sua família. Observe o valor do kit , faça a operação e assinale a resposta correta:

Quantos reais Felício pagou pelos kits?

- () R\$ 363,00
- () R\$ 350,00
- () R\$ 205,00
- () R\$ 100,00



b) O dono do supermercado **NATALSUPER** tem no estoque 1.764 panetones para vender no Natal. Mas como está vendendo bem decidiu comprar o quádruplo dessa quantidade para vender. Faça a operação correta e descubra quantos panetones irá vender?

Solução

Resposta

