




**Secretaria Municipal de Educação**  
**E.M.E.B. Professor Vitoldo Alexandre Czech**  
**Diretora: Lucélia Aparecida Gabrielli**  
**Assessora Pedagógica: Maria Claudete T. Gervásio**  
**Assessora Administrativa: Rosane Eva Bucco**  
**Professora: Aline Dupczak Pereira**  
**5º ano matutino – 07/12/2020**

**Aluno:** \_\_\_\_\_

➤ **14ª SEMANA 07/12 - SEQUÊNCIA DIDÁTICA EU SOU CIDADÃO!**

**Disciplina: PORTUGUÊS E MATEMÁTICA**



**LEIA TEXTO E DEMAIS ATIVIDADES COM MUITA ATENÇÃO E REALIZEM-NAS COM CAPRICO E DEDICAÇÃO!**

**Qual é a diferença entre gripe e resfriado?**

A diferença principal é que a gripe pode matar e o resfriado, no máximo, pode te deixar meio caidão. A sabedoria popular costuma dizer que a gripe é um estágio avançado do resfriado, mas isso é um tremendo engano. Gripe e resfriado são infecções distintas, causadas por tipos de vírus bem diferentes: a gripe é causada por um tipo específico de vírus (o influenza), enquanto o resfriado pode ser desencadeado por vários tipos de vírus.

Os sintomas iniciais são bem parecidos - nariz entupido e dores no corpo, principalmente –, mas a gripe logo se diferencia: além de produzir dores mais intensas, gera náuseas, febre, congestionamento das vias respiratórias e comprometimento do sistema imunológico, o que pode abrir espaço para problemas mais graves, como a pneumonia.

O resfriado, pelo contrário, não costuma ir além de dores leves, tosse, espirros e coriza no nariz. Muitas vezes, inclusive, resfriado é confundido com crise de rinite alérgica. "Ninguém perde uma festa ou um dia de trabalho por causa de um resfriado. Se você tiver que ficar de cama, é gripe!", diz o pneumologista Clystenes Soares. **Distintas= diferentes**

por Artur Louback Lopes

**1. NO TEXTO ACIMA, A OPINIÃO DA SABEDORIA POPULAR SOBRE A GRIPE É DE QUE**

- A) A gripe é causada por dores mais intensas.
- B) A gripe é causada por um tipo específico de vírus.
- C) A gripe é um estágio avançado do resfriado.
- D) A gripe pode provocar pneumonia.

## 2. LEIA COM ATENÇÃO A POESIA SOBRE OS TIPOS DE FRASES!

As frases têm **tipos**  
Que eu devo saber  
Pela **pontuação** ou **entoação**  
Eu os vou reconhecer.

Se me dá uma **informação**  
E acaba em **ponto final**  
É **declarativa**, como em:  
"Amanhã é carnaval."

Se mostra **sentimentos**  
E acaba em **ponto de exclamação**  
É **exclamativa**, como em:  
"Que medo do ladrão!"

Se faz uma **pergunta**  
E acaba em **ponto de interrogação**  
É **interrogativa**, como em:  
"Já rebentaste o balão?"

Se dá uma **ordem**  
E acaba em **ponto final** ou de **exclamação**  
É **imperativa**, como em:  
"Vai já dar comer ao cão!"

a) Quais os tipos de frases apresentados no texto?

---

---

---

b) Destaque no texto os tipos de frases mencionados.

c) Escreva uma frase para cada tipo de frase apresentados:

---

---

---

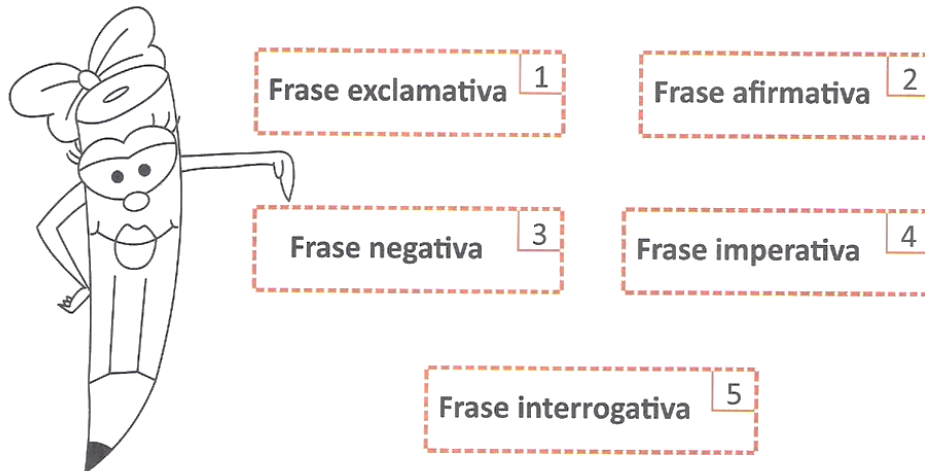
---

---


---

---

### 3. NUMERE OS PARÊNTESES FAZENDO A CORRESPONDÊNCIA CORRETA:



- Os insetos, geralmente, são animais nocivos.
- O fogo apagou?
- Parabéns!
- Levanta!
- Não gosto de frio.
- Sim.



### 4. OBSERVE O TEXTO AO LADO É DIRIGIDO:

- (A) ao público em geral.
- (B) a crianças pequenas.
- (C) ao Ministério da Saúde.
- (D) a pessoas com 60 anos ou mais.

### 5. ESSE TIPO DE TEXTO, COSTUMEIRAMENTE É EXPOSTO:

- (A) em livro didático
- (B) na bíblia católica
- (C) nas paredes de postos de saúde
- (D) em revistas de conteúdo infantil

### 6. “VIVA MELHOR. VACINE-SE CONTRA A GRIPE.” É UM TIPO DE FRASE:

- (A) Afirmativa
- (B) Negativa
- (C) Imperativa
- (D) Interrogativa

MINISTÉRIO DA SAÚDE  
MAIS ATENÇÃO A VOCE

VIVA MELHOR.

VACINE-SE CONTRA A GRIPE.

SE VOCÊ TEM 60 ANOS OU MAIS, VACINE-SE  
DE 24 DE ABRIL A 5 DE MAIO. É DE GRAÇA.

www.saude.gov.br  
SECRETARIA SAUDE 0800 30 3007

Secretarias Estadual  
e Municipal de Saúde

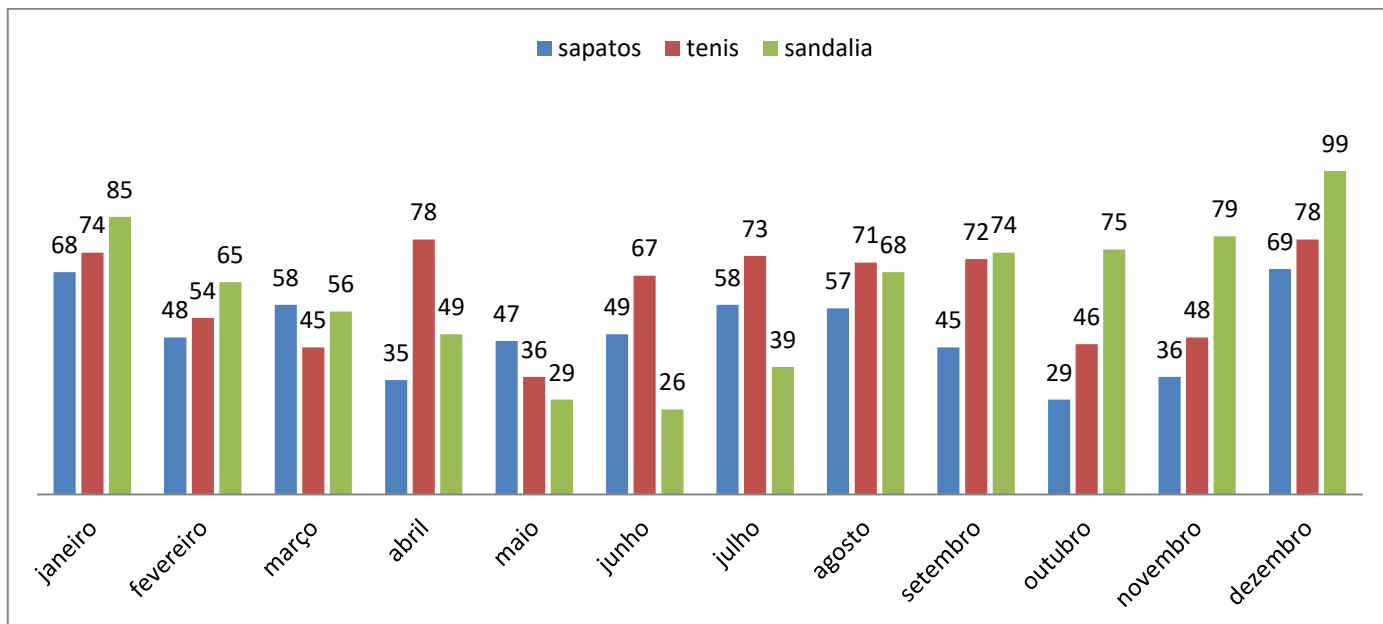
Ministério  
da Saúde

BRASIL  
GOVERNO FEDERAL

# MATEMÁTICA

## Análise de Gráfico

1- OBSERVE O GRÁFICO QUE APRESENTA AS VENDAS DE UMA LOJA DE CALÇADOS NO ANO DE 2019:



AGORA RESPONDA DE ACORDO COM O GRÁFICO:

a) Qual foi o calçado mais vendido em janeiro?

b) Qual foi o calçado menos vendido em março?

c) Quantos calçados foram vendidos em junho?

d) Qual foi a venda de tênis em setembro?

e) Quantos calçados foram vendidos no primeiro semestre?

f) Quantos calçados foram vendidos no segundo semestre?

g) Qual mês foi o campeão em vendas?

---

h) Qual o mês com menos vendas?

---

i) Qual foi a venda dos meses de março e maio juntos?


j) Qual foi o mês com mais vendas junho ou julho?

---

**2- VOLTE AO SEU CADERNO DE MATEMÁTICA E OBSERVE O QUADRO DE VALOR POSICIONAL, EM SEGUIDA, OBSERVE O NÚMERO E RESPONDA:**

**47. 639. 158**

- A) Este número tem \_\_\_\_\_ ordens e \_\_\_\_\_ classes.
- B) Os \_\_\_\_\_ ocupa a ordem das unidades.
- C) O \_\_\_\_\_ ocupa a ordem das dezenas.
- D) O 1 ocupa a ordem das \_\_\_\_\_.
- E) O \_\_\_\_\_ ocupa a ordem das unidades de milhar.
- F) O 3 ocupa a ordem das \_\_\_\_\_.
- G) O \_\_\_\_\_ ocupa a ordem das centenas de milhar.
- H) O 7 ocupa a ordem das \_\_\_\_\_.
- I) O 4 ocupa a ordem das \_\_\_\_\_.



# PERCORRENDO A TRILHA

**SAÍDA**

O dobro de  
16 mais o  
triplo de 15.

---

O triplo de  
32 mais o  
quádruplo de  
25.

---

O sêxtuplo de  
120, menos o  
quíntuplo de  
84.

---



O quádruplo  
de 260 menos  
o triplo de 98.

---

O quántuplo  
de 750 mais  
7 dúzias.

---

O sêxtuplo de  
234 mais 546.

---

O quántuplo  
de 340 mais  
o dobro de  
uma centena.

---

**CHEGADA**

O dobro de  
um milhar  
menos cinco  
centenas.

---

O triplo de  
145 menos o  
dobro de 138.

---