



Escola Municipal de Educação Básica Alfredo Gomes.
Catanduvas, MARÇO de 2021.
Diretora: Ivania Ap. Nora
Assessora Técnica Pedagógica: Simone Andréa Carl
Assessora Técnica Administrativa: Tania Nunes de Ávila
Professora: **TASSIANA CLAUDIA FELIPE**
2º ano Vespertino
ALUNO(A): _____

SEQUÊNCIA DIDÁTICA DO 2º ANO VESPERTINO
QUARTA SEMANA DE MARÇO 22 A 26/03/21

TÍTULO: O ANIVERSÁRIO DA MINHA CIDADE

OLÁ MEUS QUERIDOS ALUNOS (AS)!

NESTA SEMANA VAMOS TRABALHAR MATEMÁTICA. REALIZEM AS ATIVIDADES COM MUITA ATENÇÃO. VAMOS RELEMBRAR OS NUMERAIS, CONTAR E ESCREVER. ESPERO QUE FAÇAM TUDO BEM BONITO. NÃO ESQUEÇAM DE COLOCAR O NOME E PINTAR TODAS AS ATIVIDADES. DEPOIS ENTREGAR NA ESCOLA PARA A PROFESSORA CORRIGIR.


UM GRANDE ABRAÇO.

LOGO, LOGO NOS ENCONTRAREMOS! PROFª TASSIANA.



ATIVIDADES DE MATEMÁTICA

1-CATANDUVAS ESTAVA DE ANIVERSÁRIO NA SEMANA PASSADA, COMPLETOU 58 ANOS DE EMANCIPAÇÃO. AGORA COM A AJUDA DOS PAIS CONTE AS BOLINHAS QUE TEM NOS BALÕES E ESCREVA O NÚMERAL CORRESPONDENTE, DEPOIS PINTE O DESENHO:



2- AGORA ESCREVA POR EXTENSO OS NÚMEROS QUE VOCÊ ENCONTROU NOS BALÕES:

3-CATANDUVAS COMPLETOU **58 ANOS DE EMANCIPAÇÃO**. PINTE AS PALAVRAS QUE INDICAM O NÚMERO **58** POR EXTENSO:

TRINTA	DEZ	QUARENTA	OITO	
DOZE	CINQUENTA	VINTE	TRÊS	
UM	SETENTA	NOVE	QUINZE	CINCO

AGORA ESCREVA O NÚMERO AQUI:


4-CADA NÚMERO TEM UMA ESCRITA DIFERENTE. ENTÃO, LIGUE OS NUMERAIS DE ACORDO COM A SUA LEITURA E ESCRITA:

15	ZERO
10	QUATRO
8	DEZ
7	DEZESSEIS
4	CINCO
16	SETE
0	QUINZE
5	OITO

5- COMPLETE COM OS NÚMEROS QUE ESTÃO FALTANDO:

1		3		5		7		9	10
11	12		14		16		18		20
21		23		25		27		29	30
31	32		34		36		38		40
41		43		45		47		49	50

6- AGORA OBSERVE A IMAGEM E DEPOIS RESPONDA AS PERGUNTAS:



A) QUANTAS BORBOLETAS NA CENA?

B) QUANTAS JOANINHAS?

C) QUANTAS JOANINHAS DO LADO ESQUERDO DA JARDINEIRA?

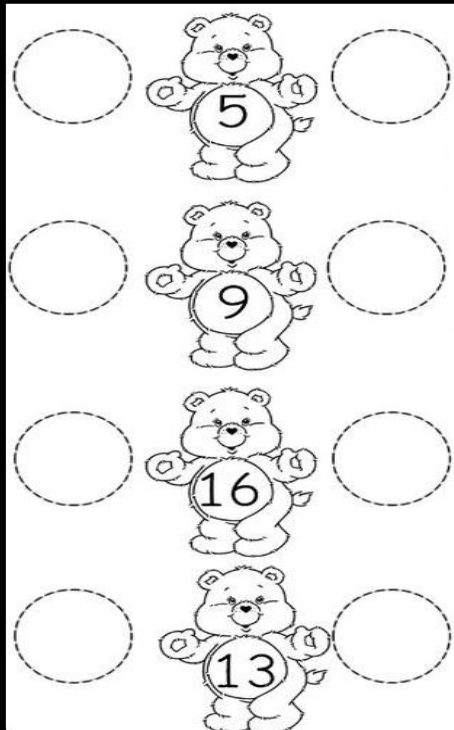
D) QUANTAS JOANINHAS DO LADO DIREITO DA JARDINEIRA?

E) QUANTAS FLORES?

F) QUANTAS JOANINHAS DO LADO DIREITO DA BORBOLETA?

G) QUANTAS JOANINHAS EM CIMA DA FLOR?

7- OBSERVE O DESENHO ABAIXO E VEJA QUE OS NÚMEROS TEM VIZINHOS. QUE NOS CHAMAMOS DE ANTECESSOR E SUCESSOR, ENTÃO COMPLETE CORRETAMENTE:




5

9

16

13



18

14

11

19