




ESCOLA MUNICIPAL DE EDUCAÇÃO BÁSICA ALFREDO GOMES.  
DIRETORA: IVÂNIA NORA.  
ASSESSORA PEDAGÓGICA: SIMONE ANDRÉA CARL.  
ASSESSORA TÉCNICA ADM.: TANIA N. DE ÁVILA.  
PROFESSORA: ELIANE KARVASKI  
ANO 2021 - TURMA 2º ANO VESPERTINO  
SEQUÊNCIA DO DIA 28 DE JUNHO AO DIA 02 DE JULHO 2021.(19º)  
TEL.ESCOLA:3525-6555 TEL.PROº ELIANE:99202-6938

ALUNO(A): \_\_\_\_\_

FAÇA A LEITURA, ENCONTRE AS PALAVRAS COM A LETRA V E PINTE DE AZUL, DEPOIS ENCONTRE AS PALAVRAS QUE RIMAM E PINTE DE VERMELHO:

**A VAQUINHA**



A VAQUINHA VIOLA  
VIU O VEADO NO VIVEIRO  
CHAMOU A VOVÓ  
QUE VEIO BEM LIGEIRO!

ELA LEVOU A VASSOURA  
E O VELHO VERDUREIRO  
PARA TIRAR DALI  
O FOLGADO AVENTUREIRO!


**ISABEL CRISTINA S. SOARES.**

**FAMÍLIA DO V**



VA VE VI VU VÃO

DESEMBARALHE A  
PALAVRA E FAÇA O QUE  
SE PEDE:



**NOME** →

**LETRAS** →

**SÍLABAS** →


**INTERPRETAÇÃO DO TEXTO:**

1-QUAL ERA O NOME DA VAQUINHA? \_\_\_\_\_

2-ONDE A VAQUINHA VIU O VEADO? \_\_\_\_\_

3-QUEM A VAQUINHA CHAMOU? \_\_\_\_\_

4-DESEMBARALHE AS LETRAS E DESCUBRA O QUE A VOVÓ LEVOU PARA ESPANTAR O VEADO E ESCREVA DENTRO DO RETÂNGULO




5-QUEM AJUDOU A VOVÓ FOI:








O \_\_\_\_\_

6-PINTE SOMENTE OS ANIMAIS DA HISTÓRIA E ESCREVA O NOME :



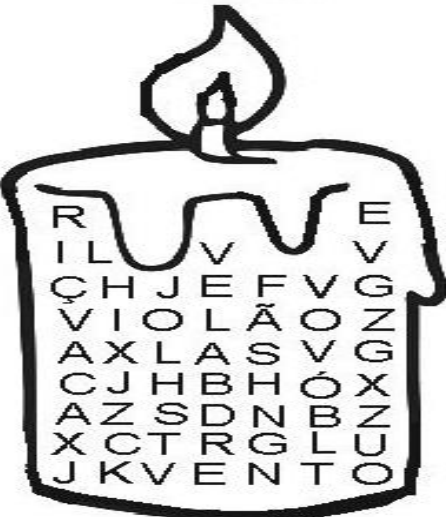
\_\_\_\_\_  
\_\_\_\_\_

7-COMPLETE AS PALAVRAS COM AS SÍLABAS FALTOSAS: VA,VE,VI,VO,VU:

				
__VÓ	__CA	__OLINO	__LA	__LCÃO

8-ENCONTRE AS PALAVRAS NA VELA E ESCREVA AO LADO:

VELA



R	I	L	V	E		
Ç	H	J	E	F	V	G
V	I	O	L	Ã	O	Z
A	X	L	A	S	V	G
C	J	H	B	H	O	X
A	Z	S	D	N	B	Z
X	C	T	R	G	L	U
J	K	V	E	N	T	O

V

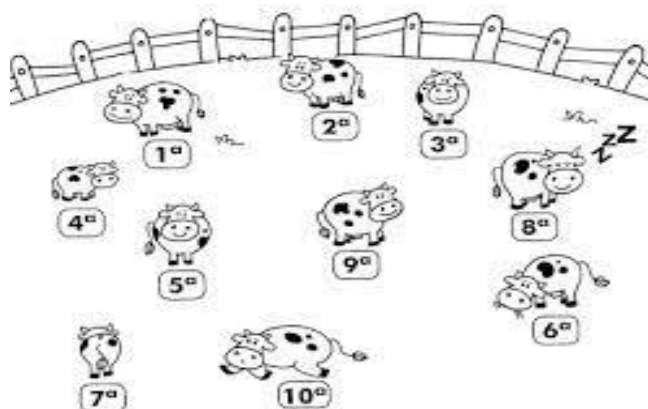
1-.....
2-.....
3-.....
4-.....
5-.....

9-ESCREVA AS FRASES SUSTITUINDO AS FIGURAS PELO NOME DE CADA UMA:



10-

OBSERVE A FIGURA:



AGORA RESPONDA:

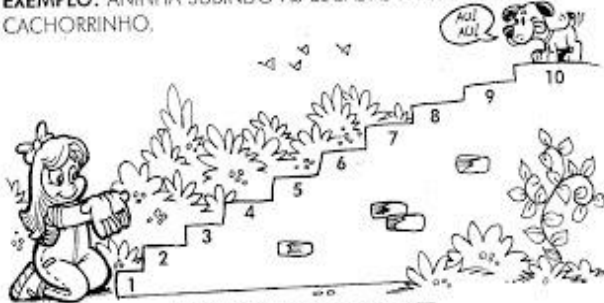
A VAQUINHA QUE ESTÁ:

- a) DEITADA É A \_\_\_\_\_ b) COMENDO CAPIM É A \_\_\_\_\_  
c) DE COSTAS É A \_\_\_\_\_ d) DORMINDO É A \_\_\_\_\_  
e) MAIS PERTO DA CERCA \_\_\_\_\_ f) MENOR É A \_\_\_\_\_

### ORDEM CRESCENTE

ORDEM CRESCENTE - DO MENOR PARA O MAIOR.

EXEMPLO: ANINHA SUBINDO AS ESCADAS PARA PEGAR SEU CACHORRINHO.



### ORDEM DECRESCENTE

ORDEM DECRESCENTE: DO MAIOR PARA O MENOR.

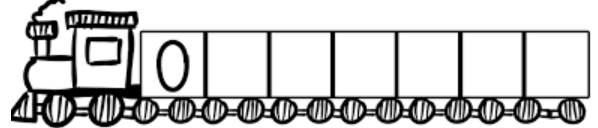
EXEMPLO: ZEZINHO DESCE A ESCADA LEVANDO SEU CACHORRINHO PARA COMER.



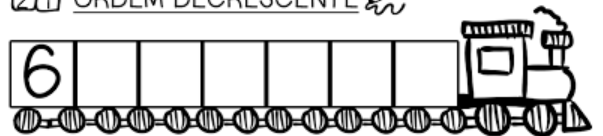
PINTE A FITA DE AZUL ONDE TEM OS NUMERAIS EM ORDEM CRESCENTE E DE VERDE A FITA QUE TEM OS NUMERAIS EM ORDEM DECRESCENTE:

1- COMPLETE OS VAGÕES DOS TRENS COM OS NUMERAIS EM SEQUÊNCIA:

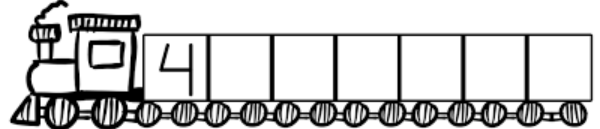
<sup>1</sup>/<sub>2</sub>3 ORDEM CRESCENTE ✍️



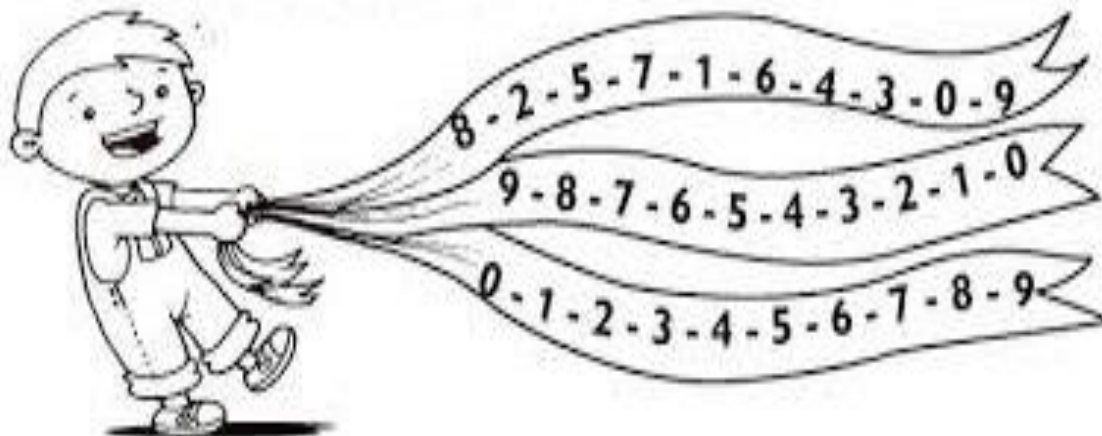
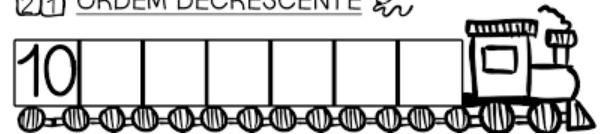
<sup>3</sup>/<sub>2</sub>1 ORDEM DECRESCENTE ✍️



<sup>1</sup>/<sub>2</sub>3 ORDEM CRESCENTE ✍️




<sup>3</sup>/<sub>2</sub>1 ORDEM DECRESCENTE ✍️




Adição

$\begin{array}{r} +12 \\ +15 \\ \hline \square \end{array}$	$\begin{array}{r} +32 \\ +27 \\ \hline \square \end{array}$	$\begin{array}{r} +13 \\ +7 \\ \hline \square \end{array}$	$\begin{array}{r} +28 \\ +12 \\ \hline \square \end{array}$
$\begin{array}{r} +59 \\ +31 \\ \hline \square \end{array}$	$\begin{array}{r} +17 \\ +42 \\ \hline \square \end{array}$	$\begin{array}{r} +23 \\ +9 \\ \hline \square \end{array}$	$\begin{array}{r} +11 \\ +11 \\ \hline \square \end{array}$



Subtração

$\begin{array}{r} -95 \\ -15 \\ \hline \square \end{array}$	$\begin{array}{r} -18 \\ -12 \\ \hline \square \end{array}$	$\begin{array}{r} -32 \\ -11 \\ \hline \square \end{array}$	$\begin{array}{r} -45 \\ -23 \\ \hline \square \end{array}$	$\begin{array}{r} -78 \\ -18 \\ \hline \square \end{array}$
	$\begin{array}{r} -63 \\ -42 \\ \hline \square \end{array}$	$\begin{array}{r} -57 \\ -34 \\ \hline \square \end{array}$	$\begin{array}{r} -84 \\ -53 \\ \hline \square \end{array}$	

1- A VAQUINHA PRODUZIU BASTANTE LEITE.  
VAMOS CIRCULAR UMA DEZENA DE GARRAFINHAS DE LEITE?

DEZENA



2- AGORA, VAMOS CIRCULAR UMA DÚZIA DE GARRAFINHAS DE LEITE?

DÚZIA

