



**Escola Municipal de Educação Básica Alfredo Gomes.**  
Catanduvas, **JULHO** de 2021.

Diretora: Ivania Ap. Nora

Assessora Técnica Pedagógica: Simone Andréa Carl

Assessora Técnica Administrativa: Tania Nunes de Ávila

Professora: **TASSIANA CLAUDIA FELIPE**

2º ano Vespertino

**ALUNO(A):** \_\_\_\_\_

**SEQUÊNCIA DIDÁTICA DO 2º ANO VESPERTINO**  
**SEGUNDA SEMANA DE 05/07 a 09/07/21**

**TÍTULO: É TEMPO DE LEITURA**

OLÁ QUERIDOS ALUNOS!

ESPERO QUE TODOS ESTEJAM BEM. VAMOS APRENDER MAIS UMA FAMÍLIA SILÁBICA AGORA DA LETRA V. LEIA O PEQUENO TEXTO E RESPONDA AS ATIVIDADES.

UM GRANDE ABRAÇO. PROFª TASSIANA.

**ATIVIDADES DE LINGUA PORTUGUESA**

1-LEIA COM ATENÇÃO O TEXTO. DEPOIS CIRCULE DE AMARELO TODAS AS PALAVRA QUE INICIAM COM A **LETRA V**:

**VA**

**VE**

**VI**

**VO**

**VU**

**A VACA**

VIÚVA É UMA BELA VACA.  
ELA É DA VOVÓ VERA.  
VOVÓ LEVA VIÚVA À VILA.  
A MENINADA VÊ A VACA E  
FALA:  
- VOVÓ DÁ LEITE DA VIÚVA  
PARA NÓS!  
A MENINADA BEBE LEITE E  
COMEMORA.

2- INTERPRETANDO O TEXTO:

A) COMO ERA O NOME DA VACA DA VOVÓ VERA?

R: \_\_\_\_\_

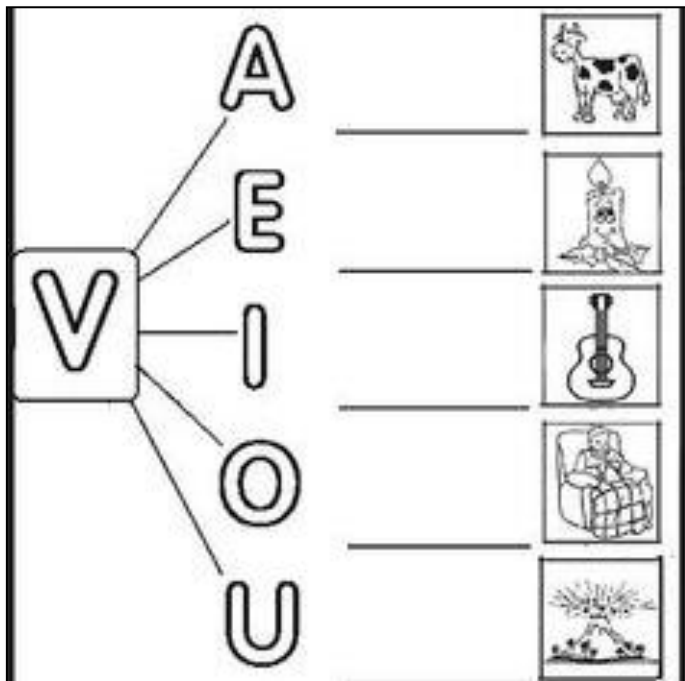
B) A VOVÓ LEVAVA A VACA VIÚVA PARA PASSEAR AONDE?

R: \_\_\_\_\_

C) O QUE A MENINADA PEDIA PARA A VOVÓ?


R: \_\_\_\_\_

3- LIGUE A CONSOANTE COM AS VOGAIS E COMPLETE COM AS SÍLABAS **VA- VE- VI-VO VU**



4-RECORTE E COLE NO ESPAÇO ABAIXO UMA PALAVRA COM CADA SÍLABA: **VA- VE- VI- VO- VU- VÃO**

5-OBSERVE AS FIGURAS E ESCREVA O NOME NO ESPAÇO ABAIXO:




6- ENCONTRE NO CAÇA -PALAVRAS O NOME DAS FIGURAS:

V	E	L	V	I	O	L	I	N	O	A
R	V	U	L	C	D	Ã	N	O	V	E
O	A	R	E	S	A	V	S	E	R	F
D	S	V	U	C	E	A	V	S	A	O
L	S	Ç	A	É	V	Ã	S	L	O	I
O	O	A	C	S	X	H	A	L	E	V
I	U	Q	A	T	Y	I	W	A	S	Z
T	R	J	V	S	A	Q	W	S	E	V
V	A	M	P	I	R	O	D	C	A	Q
N	L	P	T	R	O	Ã	C	L	U	V
V	E	N	T	L	G	D	W	E	S	F
E	V	E	N	T	I	L	A	D	O	R

## ATIVIDADES DE MATEMÁTICA

1-OBSERVE O CURRAL DA VAQUINHAS E COMPLETE AS FRASES COM A NUMERAÇÃO ORDINAL DE CADA UMA.



- A) A VAQUINHA QUE ESTÁ DEITADA É A \_\_\_\_\_
- B) A VAQUINHA QUE ESTÁ COMENDO CAPIM É A \_\_\_\_\_
- C) A VAQUINHA QUE ESTÁ DE COSTAS É A \_\_\_\_\_
- D) A VAQUINHA MENOR É A \_\_\_\_\_
- E) A VAQUINHA QUE ESTÁ DORMINDO É A \_\_\_\_\_

2- CONTE OS PONTOS E ENCONTRE O RESULTADO:

6						
=	=	=	=	=	=	=
3+3	+	+	+	+	+	+