



ESCOLA MUNICIPAL DE EDUCAÇÃO BÁSICA ALFREDO GOMES.
RUA: CORONEL RUPP BAIRRO CENTRO OESTE
CATANDUVAS – SC ANO 2021
CNPJ – 78502697/0001-96
DIRETORA: IVÂNIA NORA.
ASSESSORA PEDAGÓGICA: SIMONE ANDRÉA CARL.
ASSESSORA TÉCNICA ADM.: TANIA N. DE ÁVILA.
PROFESSORAS: **Aline Dupczak Pereira, Elizangela Cavalheiro
Mariano e Marli Bobela.**
ALUNO(A):.....
SÉRIE PERÍODO.....

ROTEIRO DE ESTUDOS SEMANA DE 02/08 À 06/08



Vamos iniciar a semana revisando os assuntos estudados antes do recesso escolar:

- Português: Todos os substantivos;
- Matemática: multiplicação e divisão por dois algarismos;
- Ciências: sistema locomotor;
- Geografia: Brasil divisão política e suas regiões;
- História: linha do tempo.

AGORA QUE VOCÊ ESTUDOU, VAMOS FAZER NOSSAS AVALIAÇÕES!

AVALIAÇÃO DE PORTUGUÊS

1) Leia com atenção e responda as questões: (1,0)

Teimoso

Adivinhem quem é Teimoso?

Ele tem o pelo lisinho, branco com manchas pretas.

Teimoso é tão dorminhoco! Vive ronronando na almofada da sala de visitas.

Quando está com fome, fica miando, até alguém dar um pedaço de carne ou um prato de leite. Sua diversão predileta é caçar ratinhos.

– Miau, miau...

Olhem o Teimoso aí, pedindo comida.

Adivinharam quem é ele?

a) Qual é o título do texto?

R.: _____

b) Qual é o animal que o texto se refere?

R.: _____

c) Quantos parágrafos há no texto?

R.: _____

d) O que o bichinho gosta de comer?

R.: _____

e) O que o bichinho gosta de fazer?

R.: _____

2- Leia esse trecho do texto com atenção e responda: (1,0)

Um dia, uma menina estava sentada no sofá-cama, observando sua mãe varrer a casa. De repente, percebeu que sua mãe tinha vários cabelos brancos no meio de sua cabeleira escura. Olhou para sua mãe e perguntou:

- Por que você tem tantos cabelos brancos, mamãe?

A mãe respondeu:

- Bom, cada vez que você faz algo de ruim, me dá uma tristeza danada e um fio do meu cabelo fica branco.

A menina pensou um pouco e logo perguntou:

- Mãe, por que todos os fios de cabelo da minha avó, sua mãe, estão brancos?

a) A justificativa da mãe para os seus cabelos brancos foi:

() as coisas tristes que a filha fazia

() As coisas ruins que a filha fazia

() As dificuldades da vida

() O tempo

b) Na frase: "um dia, uma menina estava sentada no **sofá-cama**...a palavra em destaque é:

() Um substantivo simples

() Um substantivo composto

() Um substantivo derivado

() Um substantivo primitivo

3) Enumere as colunas de acordo:(1,0)

(1) substantivo simples	() São substantivos que não são formados a partir de nenhuma outra palavra da língua portuguesa.
(2) Substantivo próprio	() São palavras que indicam o nome particular de uma pessoa, lugar, animal, etc.
(3) Substantivo composto	() São formados por um só elemento
(4) Substantivo primitivo	() São formados por mais de um elemento
(5) Substantivo derivado	() São os substantivos que se originam a partir de outra palavra da língua portuguesa

4) Escreva substantivos derivados para cada primitivo:(1,0)

Casa: _____

Piano: _____

Mesa: _____

Doce: _____

Terra: _____

Dente: _____

Foto: _____

Carta: _____

Sorvete: _____

Sapato: _____

Cavalo: _____

Tesoura: _____

Limão: _____

Pão: _____

5) Para cada substantivo simples transforme em um substantivo composto:(1,0)

Pão: _____

Estrela: _____

Asa: _____

Pombo: _____

Peixe: _____

Guarda: _____

Flor: _____

Homem: _____

Sofá: _____

Arco: _____

6) Observe os substantivos derivados abaixo e escreva o de qual substantivo ele foi gerado:(1,0)

Folhagem: _____

Terreiro: _____

Macarronada: _____

Maremoto: _____

Formigueiro: _____

Ventania: _____

Pedregulho: _____

Limoeiro: _____

Jornalista: _____

Caçada: _____

Floricultura: _____

Fogueira: _____

7- Leia a tirinha e responda:



a) A palavra FOGUEIRA é classificada como um substantivo...

- () derivado () comum () abstrato () composto

b) A palavra FRIO é um substantivo primitivo. Assinale o único substantivo que não deriva dele.

- () Calafrio () Friagem () Frieza () Gelado

8- Procure derivados no caça palavras: (0,5)



Agora complete corretamente:

Substantivo _____ é aquele que não necessita de outra palavra para existir.

Substantivo _____ é aquele que se origina de outra palavra.

9- Escreva o substantivo feminino de cada um dos substantivos abaixo:(1,0)

Boi: _____
Jogador: _____
Ator: _____
Juiz: _____
Padrinho: _____
Príncipe: _____

Irmão: _____
Genro: _____
Senador: _____
Mestre: _____
Padrasto: _____
Rei: _____

10- Passe as frases para o plural:(0,5)

A) O médico cuida do paciente.

R.: _____

B) A menina chegou atrasada.

R.: _____

C) O aluno entregou a atividade.

R.: _____

D) O computador foi conectado.

R.: _____

11- Observe a tirinha e responda: (1,0)



a) Por que Cascão não se irritou?

b) Qual palavra é onomatopeia?

c) Ligue as onomatopeias aos seus significados:

SMAC
COCORICÓÓÓ
TCHIBUM
BOOM
TRIIIMM

telefone
caindo na água
explosão
beijo
galo cantando

AVALIAÇÃO DE MATEMÁTICA

1. Uma loja de brinquedos obteve essa quantidade de vendas para o dia das crianças. Observe a tabela com o número de brinquedos mais vendidos: (1.0)

Brinquedos	Quantidades
Bolas	245
Bonecas	342
Carrinhos	413
Jogos	222

- a) Qual brinquedo mais vendido pela loja?

- b) Qual brinquedo menos vendido pela loja?

- c) Quantos brinquedos foram vendidos ao todo?

Resposta:

- d) Sabendo que cada brinquedo recebeu um pacote de presente no valor de R\$3,00, quanto a loja teve de despesa com os laços?

Resposta:

2. Observe o número no quadro. (1.0)

569.372

- a) Decomponha esse número.

- b) Escreva como se lê .

c) Que ordem representa o algarismo 9?

d) Que ordem representa o algarismo 5?

e) Que ordem representa o algarismo 7?

f) Quanto vale o algarismo 6?

3. Observe a vitrine da loja de brinquedos. (1.0)



a) Quantos bambolês são possíveis comprar com o dinheiro necessário para adquirir um castelo de brinquedo?

- () 152 bambolês.
() 150 bambolês.
() 148 bambolês.
() 100 bambolês.

b) Vou comprar uma bola, um helicóptero e uma boneca e pagarei o preço total em quatro parcelas iguais. Qual será o valor de cada parcela?

- () R\$ 1.440,00.
() R\$ 440,00.
() R\$ 110,00.
() R\$ 120,00.

4. O quadro abaixo mostra a relação das compras que Alice fez na padaria. (1.0)

Padaria Três Rios	
1 Leite	R\$ 2,90
1 Rosca	R\$ 3,70
1 Manteiga	R\$ 4,80

Antes de passar pelo caixa da padaria, ela fez o cálculo de quanto gastará. Quanto Alice deverá pagar?

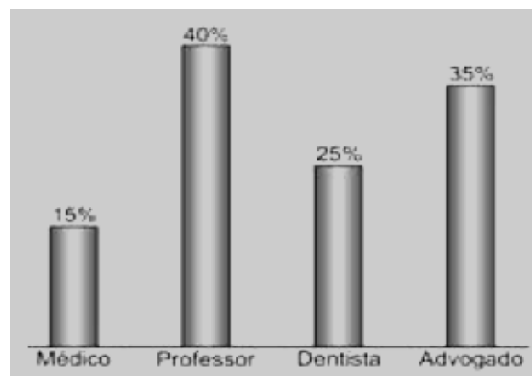
- (A) R\$ 8,90. (B) R\$ 9,00. (C) R\$ 10,40. (D) R\$ 11,40.

5. Hoje é aniversário de Joana. Sua mãe foi a uma loja de brinquedos e comprou um castelo de bonecas que custava R\$412,00. Ela deu uma entrada de R\$150,00 e parcelou o resto em 4 parcelas iguais. De quanto será cada parcela? (1.0)

6. A professora Lílian do 4º ano resolveu a operação a seguir, mas durante o recreio, o aluno Inácio apagou o resultado. Ajude a professora a encontrar o resultado certo, resolvendo-a.(1.0)

$$1350 \quad | \quad \underline{25}$$

7. Os estudantes do 5º ano realizaram uma entrevista com quatro turmas da escola para verificar que profissões os estudantes desejam seguir futuramente. Observe o gráfico abaixo que representa o resultado dessa pesquisa. (1.0)



Nessa pesquisa, qual foi a profissão mais escolhida?

- (A) advogado. (B) dentista. (C) professor. (D) médico.

8. Durante a semana da criança foi realizada um gincana envolvendo todos os alunos da escola. Sabendo que a escola tem 324 alunos que foram divididos em 12 equipes, quantas crianças ficaram em cada equipe?(1.0)

R: _____

9. Em um estacionamento há 24 filas de carros. Em cada fila há 46 carros. (1.0)



O total de carros nesse estacionamento é de

- (A) 1004 carros.
- (B) 1108 carros.
- (C) 1104 carros.
- (D) 1204 carros.

10. Arme e resolva as operações: (1.0)

a) $1068:12=$

d) $424 \times 16=$

b) $1125:25=$

e) $247 \times 15=$

c) $1430:22=$

f) $305 \times 27=$

ATIVIDADE AVALIATIVA DE CIÊNCIAS

1) O sistema locomotor é formado por dois componentes, quais são eles?

2) O esqueleto humano é formado por quantos ossos?

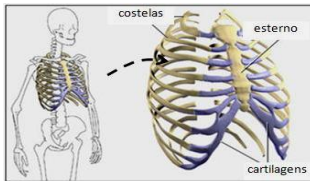
(a) 203 (b) 213 (c) 206 (d) 216

3) Os ossos são órgãos do corpo humano responsáveis por diversas funções, EXCETO:

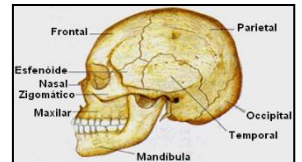
- a) Sustentação do corpo b) Proteção de órgãos internos
c) Apoio para realização dos movimentos d) Reserva de vitaminas.

4) Relacione corretamente:

- (1) O esqueleto axial apresenta
(2) O esqueleto apendicular apresenta
(3) Articulações móveis
(4) Articulações imóveis
(5) Articulação semimóveis
(6) Osteologia
(7) Miologia



- () 80 ossos.
() apresenta movimentação, porém limitada.
() É um ramo da anatomia que estuda os músculos.
() permite grande movimentação.
() não permite movimentação.
() É um ramo da anatomia que estuda os ossos
() 126 ossos.



12) Qual é o maior osso do corpo humano?

13) O menor osso do corpo humano é?

14) Os músculos dos esqueletos ficam entre os ossos e a _____

15) O músculo mais forte é a _____

16) O ser humano tem em torno de

(a) 206 músculos (b) 639 músculos (c) 439 músculos (d) 239 músculos

17) O único músculo que nunca se cansa é o músculo do _____

18) O músculo mais volumoso do corpo humano é o (a) deltoide (b) glúteo (c) trapézio

19) Rádio é um osso que fica no (a) braço (b) pescoço (c) pé

20) A doença causada pela perda de massa óssea é chamada de

(a) Hiperlordose (b) Osteoporose (c) Distensão muscular

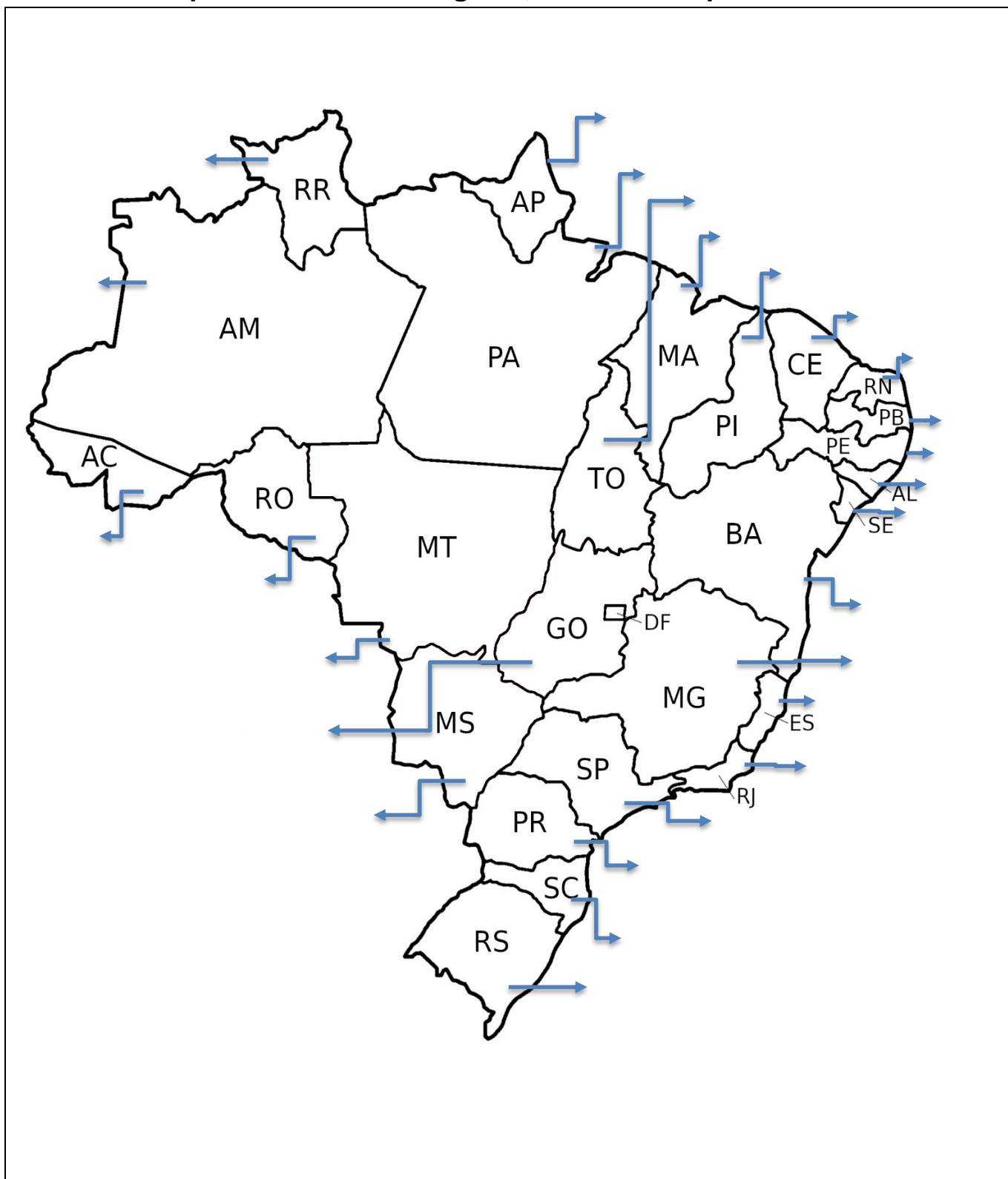
ATIVIDADE AVALIATIVA DE GEOGRAFIA

1 - PINTe cada região de uma cor, abaixo FAÇA A LEGENDA para identificar as regiões.

2-ESCREVA no lado certo do mapa o NOME DO OCEANO que banha o Brasil.

3-ESCREVA no mapa o nome dos estados e suas capitais (com letra legível para fácil entendimento).

Mapa do Brasil suas regiões, estados e capitais



ATIVIDADE AVALIATIVA DE HISTÓRIA



Você já aprendeu tudo sobre LINHA DO TEMPO! Então escolha uma semana de férias, em seguida elabore a linha do tempo dessa semana numa folha de A4 para entregar para professora, seja criativo, desenhe os momentos marcantes dessas férias!