



Escola Municipal de Educação Básica Professor Vitoldo
Alexandre Czech.
Catanduvas, 02 a 06 de agosto 2021.
Diretora: Lucélia Aparecida Gabrielli.
Assessora Técnica Pedagógica: Maria Claudete Tonn Gervasio.
Assessora Técnica Administrativa: Rosane Eva Bucco.
Professora: Juliane Bressanelli Garcia.
Aluno(a):.....
4º Ano 1.

AULA 22 – SEMANA DE 02 A 06 DE AGOSTO


PORTUGUÊS

- Leia com atenção e faça as atividades que podem ser impressas.

QUAL É O PONTO

Pontue corretamente as frases com ? ou !


- a) Como a praça está cheia
- b) Ai Que dor de cabeça
- c) Quem é esta menina
- d) Puxa Que doce gostoso
- e) Quantos anos você tem
- f) Nossa Como você é inteligente
- g) Quantas horas são
- h) Como o céu está bonito
- i) Que dia é hoje
- j) Como você está bonita
- k) Você quer um doce



PONTUANDO

Pontue a frase abaixo com - ? ! e , .

- a) Quais são os pontos cardeais
_ Norte sul leste e oeste
_ Onde o Sol nasce
_ No leste
- b) Mariane de que fruta você gosta
_ As frutas de que mais gosto são:
laranja uva pêra e maçã
- c) Que céu azul
_ Quanta beleza
_ Lua cheia estrelas brilhantes e nuvens branquinhas dançando
no céu



Atividades



❖ Pontue corretamente:


João disse

Não saia na chuva

Marta saiu para trabalhar sem levar a sombrinha

Ela levou apenas uma capa um par de tênis e uma blusa

Encontre no diagrama o nome dos sinais de pontuação usados nas frases acima.



❖ Relacione:

1 Ponto final

2 Dois-pontos

3 Exclamação

4 Reticências

5 Vírgula

6 Interrogação

— Que lindos olhos!

O cachorro era muito...

Qual é o seu nome?

A coelha de Marina é branca.

Comi, balas, doces e bombons.

A professora perguntou:



1. Complete as palavras usando as letras **M** ou **N**.

• Lembre-se da regra: Antes de **P** e **B**, usamos **M**.

u____bigo	ci____nto	u____bigo	ci____nto
ve____to	li____po	ve____to	li____po
ca____ção	so____bra	ca____ção	so____bra

2. Marque com um **x** as palavras corretas.

() comboio

() contente

() tempo

() cimto

() pamqueca

() tambor

() memtira

() lâmpada

() conprar

() sombra

() bamdeira

() vento

() canpo

() bambo

() samba

3. Agora, no espaço abaixo, escreva corretamente as palavras erradas.

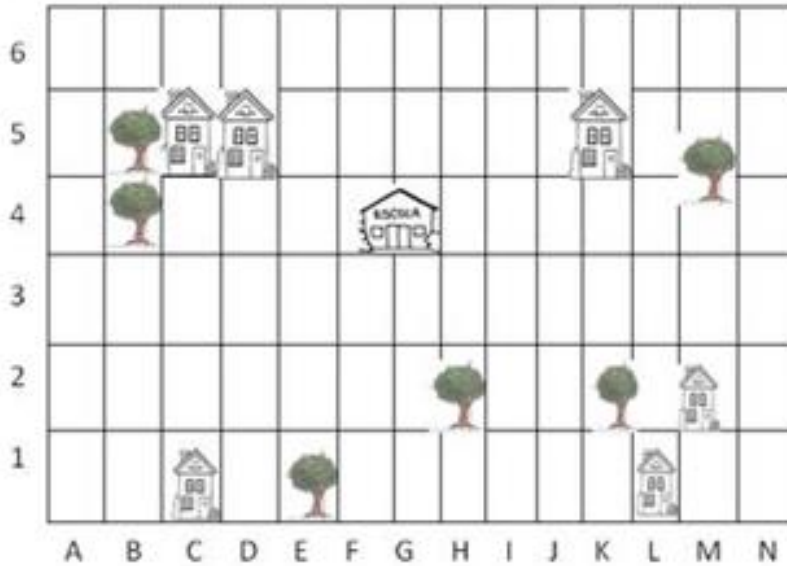
4. Explique, por que antes de **P** e **B** usamos **M** e não **N**?

Matemática

Jonas e Marilda percorreram caminhos diferentes de suas casas até a escola. Pinte as regiões percorridas por Jonas e Marilda de acordo com a legenda.


Azul Trajeto de Jonas: D1, D2, D3, D4, E4, F4

Verde Trajeto de Marilda: J1, I1, I2, I3, I4, H4



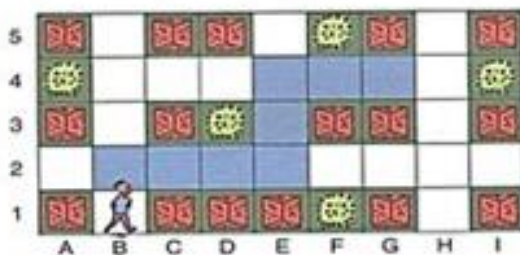
Pinte e descreva.

Milena mora na região identificada por A5, e Sônia mora na região H4. Pinte um caminho que leve Milena à casa de Sônia. Depois, descreva-o.



Complete.

Arlindo saiu de B1 e percorreu o trajeto chegando em G4.

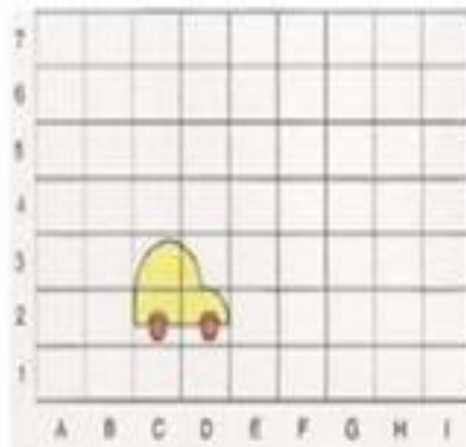


O trajeto percorrido por Arlindo foi B1

 e _____

Observe a figura à sua direita. Em qual posição está a roda da frente do carro?

- a) () C 1
- b) () D 3
- c) () C 3
- d) () D 2




Observe a fila de carteira e alunos estudando na sala de aula. Renato é o primeiro da fila.

- Mas onde Rui está sentado?

- a) () Entre Ana e Lúcia;
- b) () Na frente de João;
- c) () Atrás de Ana;
- d) () Entre o Renato e a Ana.



Observe o quadro abaixo e veja que **Gabriela** está na escola:



ATENÇÃO: Gabriela vai para a sala de leitura, ela deve se dirigir para:

- a) () porta, à sua direita;
- b) () escada, à sua direita;
- c) () porta, à sua esquerda;
- d) () escada à sua esquerda.