



Escola Municipal de Educação Básica Alfredo Gomes.
Catanduvas, **SETEMBRO** de 2021.
Diretora: Ivania Ap. Nora
Assessora Técnica Pedagógica: Simone Andréa Carl
Assessora Técnica Administrativa: Tania Nunes de Ávila
Professora: **TASSIANA CLAUDIA FELIPE**
2º ano Vespertino
ALUNO(A): _____

SEQUÊNCIA DIDÁTICA DO 2º ANO VESPERTINO
PRIMEIRA SEMANA DE 06/09 a 10/09/21

TÍTULO: O LUGAR ONDE VIVO

QUERIDOS ALUNOS!

NESTA SEMANA VAMOS APRENDER UM POQUINHO SOBRE OS BAIRROS, ELES SÃO MUITO IMPORTANTES, POIS É O LUGAR ONDE VIVEMOS. ESPERO QUE GOSTEM. BOM TRABALHO!

UM ABRAÇO PROFª TASSIANA



ATIVIDADES DE GEOGRAFIA

1-LEIA COM ATENÇÃO O TEXTO ABAIXO E DEPOIS RESPONDA AS QUESTÕES:

INTERPRETAÇÃO DO TEXTO:

A-QUAL É O TÍTULO DO TEXTO? _____

B-QUEM É A AUTORA DO TEXTO? _____

C-O POEMA FALA DO QUÊ? _____

D-O QUE HÁ NO BAIRRO DO MARCELO?

E-O QUE TEM NO SEU BAIRRO?

TODA RUA PERTENCE A UM BAIRRO, UM CONJUNTO FORMADO POR RUAS, AVENIDAS, PRAÇAS E COM DIVERSOS TIPOS DE CONSTRUÇÕES, COMO CASAS, PRÉDIOS E LOJAS.

O BAIRRO DO MARCELO

PERTO DA MINHA CASA TEM [...] UMA PORÇÃO DE LOJAS!

[...]

TEM UMA LIVRARIA, QUE TEM LIVROS GRANDES E PEQUENOS [...].

NESSA LIVRARIA EU VI UM LIVRO COM UM CACHORRÃO NA CAPA!

[...]

TEM UMA LOJA QUE [...] É UMA BANCA DE JORNAIS E TEM REVISTINHAS E LIVRINHOS E BRINQUEDOS...

[...]

TAMBÉM TEM UM SUPERMERCADO MUITO GRANDE, ONDE A GENTE COMPRA DE TUDO.

[...]

E NA PADARIA TEM PÃES DE TODO JEITO, COMPRIDOS E PEQUENOS, BRANCOS E PRETOS, DOCES E SALGADOS.

[...]

TEM UMA LOJA SÓ DE PLANTAS E DE FLORES, QUE [...] SE CHAMA FLORICULTURA.

RUTH ROCHA. **O BAIRRO DO MARCELO**.
SÃO PAULO: SALAMANDRA, 2011. P. 5-21.



2-PESQUISA:

MEU BAIRRO

MEU BAIRRO SE CHAMA _____

NO MEU BAIRRO TEM....

RUA _____

MUNICÍPIO _____

NÚMERO _____

CEP _____

MEU BAIRRO TEM MAIS:

() CASAS


() COMÉRCIOS


MINHA ESCOLA FICA:

() NO MESMO BAIRRO

() OUTRO BAIRRO

3-O QUE PODEMOS ENCONTRAR EM UM BAIRRO? ESCREVA O NOME DE ACORDO COM AS FIGURAS:





ATIVIDADE AVALIATIVA:

PERTO DA CASA DE MARCELO, HÁ UM LUGAR COM MUITAS LOJAS. AGORA É COM VOCÊ ! FAÇA UM PASSEIO PELO SEU BAIRRO. E DEPOIS DESENHE NUMA FOLHA DE OFÍCIO O QUE TEM NO SEU BAIRRO, PODE USAR FIGURAS TAMBÉM E OUTROS MATERIAIS QUE VOCÊ QUIZER. USE SUA CRIATIVIDADE.


ATIVIDADES DE MATEMÁTICA

1-RESOLVA AS SITUAÇÕES PROBLEMAS:


1) MARA SERVIU  NO ALMOÇO DO SEU COELHINHO. ELE COMEU 2 CENOURAS.


SOBROU ALGUMA CENOURA? SIM NÃO


QUANTAS? _____

DESENHO	OPERAÇÃO	RESPOSTA
	----- - ----- = -----	SOBROU ____ CENOURA.

2) NO ZOOLÓGICO HAVIA , MAS 2 DELES FORAM PARA O CIRCO. QUANTOS ELEFANTES RESTARAM NO ZOOLÓGICO?

DESENHO	OPERAÇÃO	RESPOSTA
	----- - ----- = -----	AINDA RESTARAM ____ ELEFANTES.

3) EM UM AQUÁRIO HAVIA , PEDRO DEU 2 PEIXINHOS À SUA PRIMA. COM QUANTOS PEIXINHOS PEDRO FICOU?

DESENHO	OPERAÇÃO	RESPOSTA
	----- - ----- = -----	PEDRO FICOU COM ____ PEIXES.