



**Escola Municipal de Educação Básica Alfredo Gomes.**  
Catanduvas, **SETEMBRO** de 2021.  
Diretora: Ivania Ap. Nora  
Assessora Técnica Pedagógica: Simone Andréa Carl  
Assessora Técnica Administrativa: Tania Nunes de Ávila  
Professora: **TASSIANA CLAUDIA FELIPE**  
2º ano Vespertino  
**ALUNO(A):** \_\_\_\_\_

**SEQUÊNCIA DIDÁTICA DO 2º ANO VESPERTINO**  
**SEGUNDA SEMANA DE 13/09 a 17/09/21**

**TÍTULO: O LUGAR ONDE VIVO**


QUERIDOS ALUNOS!  
NESTA SEMANA VAMOS APRENDER UM POQUINHO SOBRE AS ESTAÇÕES DO ANO.  
ESPERO QUE GOSTEM. BOM TRABALHO! UM ABRAÇO PROFª TASSIANA



**ATIVIDADES DE PORTUGUÊS**

**1-LEIA O TEXTO:**

**A CIGARRA E A FORMIGA – 1**



**A CIGARRA E A FORMIGA**

**A CIGARRA PASSOU TODO O VERÃO CANTANDO, ENQUANTO A FORMIGA JUNTAVA SEUS GRÃOS.**

**QUANDO CHEGOU O INVERNO, A CIGARRA VEIO À CASA DA FORMIGA PARA PEDIR QUE LHE DESSE O QUE COMER.**

**A FORMIGA ENTÃO PERGUNTOU A ELA:**

- E O QUE É QUE VOCÊ FEZ DURANTE TODO O VERÃO?**
- DURANTE O VERÃO, EU CANTEI - DISSE A CIGARRA.**

**E A FORMIGA RESPONDEU:**

- MUITO BEM, POIS AGORA DANCE!**

*Fábulas de Esopo,  
adaptação de Ruth Rocha. Melhoramentos.*

**INTERPRETAÇÃO DO TEXTO:**

**A-QUAL O TÍTULO DA HISTÓRIA?**

R: \_\_\_\_\_

**B-QUE A CIGARRA PASSOU FAZENDO DURANTE TODO VERÃO?**

R: \_\_\_\_\_

**C-O QUE A FORMIGA FEZ DURANTE TODO O VERÃO?**

R: \_\_\_\_\_

**D-MARQUE UM X NA ALTERNATIVA CORRETA:**

**QUE GÊNERO TEXTUAL É ESSE?**

( ) BILHETE    ( ) CONVITE    ( ) FÁBULA    ( ) RECEITA

**E-QUAL É A MORAL DA HISTÓRIA?**

R: \_\_\_\_\_

**F-QUAIS SÃO AS ESTAÇÕES DO ANO QUE APARECEM NO TEXTO?**

\_\_\_\_\_

**2-PINTE ABAIXO AS ESTAÇÕES DO ANO:**



AGORA CRIE UMA FRASE PARA CADA ESTAÇÃO:

---

---

---

---

---

---

4- ENCONTRE AS PALAVRAS NA CRUZADINHA:



5- AGORA SEPRE AS PALAVRAS ENCONTRADAS NA CRUZADINHA EM SÍLABAS:

FORMIGA: \_\_\_\_\_

GRÃOS: \_\_\_\_\_

VERÃO: \_\_\_\_\_

INVERNO: \_\_\_\_\_







CASA: \_\_\_\_\_

CIGARRA: \_\_\_\_\_



## ATIVIDADE AVALIATIVA

**É HORA DE PRODUÇÃO!** OBSERVE AS IMAGENS ABAIXO, ENUMERE A SEQUÊNCIA E DEPOIS PRODUZA UM TEXTO. PODE RECORTAR E COLAR EM OUTRA FOLHA. NÃO ESQUEÇA DO COLOCAR O NOME.








## ATIVIDADE DE MATEMÁTICA

1-OBSERVE O FORMIGUEIRO:




A-QUANTAS FORMIGAS TEM? \_\_\_\_\_

B-SE VOCÊ AGRUPAR DE 10 EM 10, QUANTOS GRUPO TERÁ? \_\_\_\_\_

2-COMPLETE A SEQUÊNCIA:

VAMOS COMPLETAR A TABELA PARA SABER QUANTOS ALIMENTOS A FORMIGA ARMAZENOU.



50		52	53		55				59
60	61			64			67		
70		72			75			78	
80							87		89
90		92			95			98	
100		102				106			
110	111								
120		122							129