	<p>ESCOLA MUNICIPAL DE EDUCAÇÃO BÁSICA ALFREDO GOMES.  DIRETORA: IVÂNIA NORA.  ASSESSORA PEDAGÓGICA: SIMONE ANDRÉA CARL.  ASSESSORA TÉCNICA ADM.: TANIA N. DE ÁVILA.  PROFESSORA: ELIANE KARVASKI  ANO 2021 - TURMA 2º ANO VESPERTINO  SEQUÊNCIA DIA 13 AO DIA 17 DE SETEMBRO DE 2021.(28ºSEQ.)  TEL.ESCOLA:3525-6555 TEL.PROFº ELIANE:99202-6938</p>
---	---

ALUNO: \_\_\_\_\_



## ATIVIDADES DE PORTUGUÊS

LEIA O TEXTO:

### **FÁBULA: A CIGARRA E A FORMIGA.**



**A CIGARRA PASSOU O VERÃO CANTANDO, ENQUANTO A FORMIGA JUNTAVA SEUS GRÃOS.**

**QUANDO CHEGOU O INVERNO, A CIGARRA VEIO À CASA DA FORMIGA PARA PEDIR QUE LHE DESSE O QUE COMER.**

**A FORMIGA ENTÃO PERGUNTOU A ELA:  
— E O QUE É QUE VOCÊ FEZ DURANTE TODO O VERÃO?**

**— DURANTE O VERÃO EU CANTEI — DISSE A CIGARRA.**

**E A FORMIGA RESPONDEU:**

**— MUITO BEM, POIS AGORA DANCE!**

**MORAL DA HISTÓRIA: OS PREGUIÇOSOS COLHEM O QUE MERECEM.**

**AUTORA: RUTH ROCHA.**

**INTERPRETAÇÃO DO TEXTO:**

1-QUAL O TÍTULO DA HISTÓRIA? \_\_\_\_\_

2-O QUE A CIGARRA PASSOU FAZENDO TODO VERÃO?\_\_\_\_\_

\_\_\_\_\_

3-O QUE A FORMIGA PASSOU JUNTANDO TODO VERÃO?\_\_\_\_\_

\_\_\_\_\_

4-MARQUE UM X NA ALTERNATIVA CORRETA:

QUE GÊNERO TEXTUAL É ESSE?

( )BILHETE ( )CONVITE ( )FÁBULA ( )RECEITA

5-QUAL A MORAL DA HISTÓRIA?\_\_\_\_\_

\_\_\_\_\_

6-QUAIS SÃO AS ESTAÇÕES DO ANO QUE APARECEM NO TEXTO?

--	--

7-FAÇA UM DESENHO PARA CADA ESTAÇÃO DO ANO:

INVERNO	OUTONO
PRIMAVERA	VERÃO

8-AGORA CRIE UMA FRASE PARA CADA ESTAÇÃO:

---

---

---

---

---

---

9-ENCONTRE AS PALAVRAS NA CRUZADINHA:



10- AGORA SEPRE AS PALAVRAS ENCONTRADAS NA CRUZADINHA EM SÍLABAS:

FORMIGA: \_\_\_\_\_

GRÃOS: \_\_\_\_\_

VERÃO: \_\_\_\_\_

INVERNO: \_\_\_\_\_





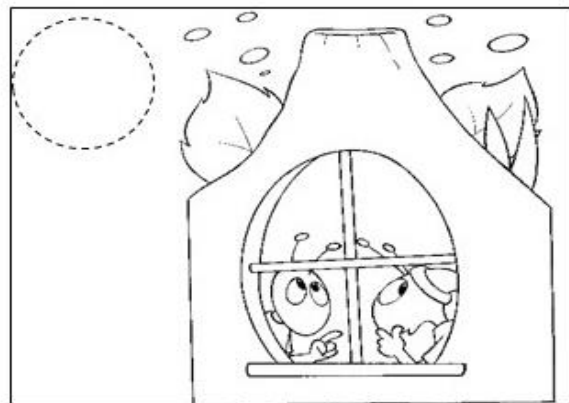
CASA: \_\_\_\_\_

CIGARRA: \_\_\_\_\_



## ATIVIDADE AVALIATIVA


**É HORA DE PRODUÇÃO!** OBSERVE AS IMAGENS ABAIXO, ENUMERE A SEQUÊNCIA E DEPOIS PRODUZA UM TEXTO. PODE RECORTAR E COLAR EM OUTRA FOLHA. NÃO ESQUEÇA DE COLOCAR O NOME.





## ATIVIDADE DE MATEMÁTICA

1-OBSERVE O FORMIGUEIRO:



A-QUANTAS FORMIGAS TEM? \_\_\_\_\_

B-SE VOCÊ AGRUPAR DE 10 EM 10, QUANTOS GRUPO TERÁ? \_\_\_\_\_

RESOLVA AS ADIÇÕES COM AJUDA DA FAMÍLIA:



$$\begin{array}{r} 4 \\ + 3 \\ \hline \end{array} \quad \begin{array}{r} 5 \\ + 1 \\ \hline \end{array}$$

$$\begin{array}{r} 6 \\ + 3 \\ \hline \end{array} \quad \begin{array}{r} 7 \\ + 2 \\ \hline \end{array} \quad \begin{array}{r} 3 \\ + 3 \\ \hline \end{array} \quad \begin{array}{r} 1 \\ + 9 \\ \hline \end{array} \quad \begin{array}{r} 8 \\ + 2 \\ \hline \end{array}$$

$$\begin{array}{r} 4 \\ + 5 \\ \hline \end{array} \quad \begin{array}{r} 2 \\ + 5 \\ \hline \end{array} \quad \begin{array}{r} 1 \\ + 7 \\ \hline \end{array}$$

$$\begin{array}{r} 5 \\ + 3 \\ \hline \end{array} \quad \begin{array}{r} 10 \\ + 0 \\ \hline \end{array} \quad \begin{array}{r} 4 \\ + 4 \\ \hline \end{array}$$



