



Escola Municipal de Educação Básica Alfredo Gomes.
Catanduvas, **NOVEMBRO** de 2021.
Diretora: Ivania Ap. Nora
Assessora Técnica Pedagógica: Simone Andréa Carl
Assessora Técnica Administrativa: Tania Nunes de Ávila
Professora: **TASSIANA CLAUDIA FELIPE**
2º ano Vespertino
ALUNO(A):

SEQUÊNCIA DIDÁTICA DO 2º ANO VESPERTINO
SEGUNDA SEMANA DE 15/11 A 19/11/21

TITULO: DE HORA EM HORA

OLÁ QUERIDOS ALUNOS (AS)!

UMA DAS ATIVIDADES IMPORTANTES QUE AS CRIANÇAS REALIZAM DURANTE O DIA, PELA MANHÃ OU À TARDE, É IR PARA A ESCOLA.


NESTA SEMANA IREMOS CONTINUAR TRABALHANDO SOBRE O TEMPO.

BOM TRABALHO! UM ABRAÇO PROFª TASSIANA



ATIVIDADES DE GEOGRAFIA

1 – OBSERVE O TRAJETO QUE MARCELO FAZ PARA IR À ESCOLA E CUBRA O PONTILHADO DE VERMELHO.



2 - AGORA ESCREVA O NOME DE SEIS ELEMENTOS DA PAISAGEM QUE MARCELO VÊ NO TRAJETO DA ESCOLA.

3-LEIA O POEMA:


A- CIRCULE NO TEXTO TODAS AS PALAVRAS QUE RIMAM, DEPOIS ESCREVA NO QUADRADINHO:


A SEMANA INTEIRA


A SEGUNDA FOI À FEIRA,
PRECISAVA DE FEIJÃO;
TERÇA FOI À FEIRA,
PRA COMPRAR UM PIMENTÃO;
A QUARTA FOI À FEIRA,
PRA BUSCAR QUIABO E PÃO;
A QUINTA FOI À FEIRA,
POIS GOSTAVA DE AGRIÃO;
A SEXTA FOI À FEIRA,
TEM BANANA? TEM MAMÃO?


SÁBADO NÃO TEM FEIRA
E DOMINGO TAMBÉM NÃO.


CAPPARELLI, SÉRGIO.
2003

_____ 

_____ 

_____ 

_____ 

_____ 

B-ENUMERE NA ORDEM CORRETA OS DIAS DA SEMANA:

TERÇA-FEIRA SEXTA-FEIRA DOMINGO SÁBADO
 SEGUNDA-FEIRA QUINTA-FEIRA QUARTA-FEIRA

4-RESPONDA DE ACORDO COM O TEXTO:

A-DE ACORDO COM O TEXTO A SEMANA TEM?











() 4 DIAS () 7 DIAS () 6 DIAS () 5 DIAS

B- QUAL DIA DA SEMANA POSSO ENCONTRAR QUIABO E PÃO NA FEIRA?

C- EM QUAIS DIAS DA SEMANA NÃO TEM FEIRA?

D- EM QUAL DIA DA SEMANA PRECISAVA IR A FEIRA BUSCAR FEIJÃO?

5-PREENCHA O CALENDÁRIO DO MÊS DE NOVEMBRO CORRETAMENTE:

CALENDÁRIO									
mês: <input type="text"/>									
									
DOM	SEG	TER	QUA	QUI	SEX	SAB			

Doni Educab

6-RESPONDA DE ACORDO COM O CALENDÁRIO:

A-EM QUE DIA DA SEMANA FOI O PRIMEIRO DIA DESTE MÊS? _____

B-QUAL DIA DA SEMANA É O ÚLTIMO DIA? _____

C-QUANTOS DIAS TÊM ESTE MÊS? _____

D-QUAL DIA DA SEMANA É O DIA DE HOJE? _____

E-QUE DIA DA SEMANA FOI ONTEM? _____

F-QUAL DIA DA SEMANA SERÁ AMANHÃ? _____

G-SEXTA-FERIA, SERÁ QUE DIA? _____

7-RESOLVA AS SITUAÇÕES PROBLEMAS:

A - MARCELO TEM EM SUA COLEÇÃO 6 CARRINHOS VERMELHOS, 3 VERDES, 4 AZUIS E 2 PRETOS. QUANTOS CARRINHOS MARCELO TEM EM SUA COLEÇÃO?

SOLUÇÃO

RESPOSTA: _____

B – MARCELO VAI GUARDAR SEUS 15 CARRINHOS EM 3 CAIXAS IGUAIS. QUANTOS CARRINHOS ELE VAI COLOCAR EM CADA CAIXA?

SOLUÇÃO

RESPOSTA: _____

8- PINTE OS MESES DE ACORDO COM AS INFORMAÇÕES, DEPOIS ESCREVA AO LADO O NOME DE CADA UM:

O PRIMEIRO MÊS DO ANO DE AMARELO _____

O MÊS QUE INICIA AS AULAS DE VERDE ESCURO _____

O 3º MÊS DO ANO DE AZUL ESCURO _____

O MÊS QUE CELEBRAMOS A PÁSCOA DE VERMELHO _____

O MÊS DAS MÃES DE ROSA _____

O MÊS DA FESTA JUNINA DE LARANJADO _____

O MÊS MAIS FRIO DO ANO DE MARRON _____

O MÊS DO DIA DOS PAIS DE CINZA _____

O MÊS QUE INICIA A PRIMAVERA DE PINK _____

O MÊS QUE COMEMORAMOS O DIA DAS CRIANÇAS DE AZUL CLARO _____

O MÊS QUE ESTAMOS AGORA DE BRANCO _____

O MÊS QUE COMEMORAMOS O NATAL DE VERMELHO ESCURO _____

